

## “Mariposas matemáticas ”

**Ámbito:** Interacción y comprensión del entorno

**Núcleo:** Pensamiento lógico matemático

**¿Qué haremos hoy?:**

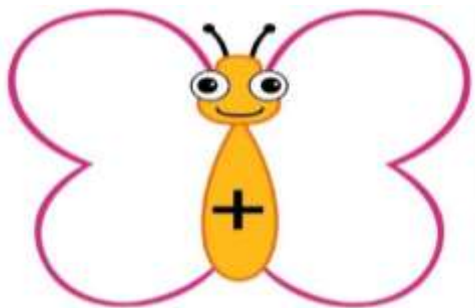
Seguimos practicando la operación matemática de la adición, esta vez serán unas amigas mariposas las cuales nos ayudaran a sumar y será a través del juego que los niños y niñas podrán resolver diversas operaciones matemáticas.

Además, le daremos pase al arte creando decoraciones para las alas de cada una de las mariposas.

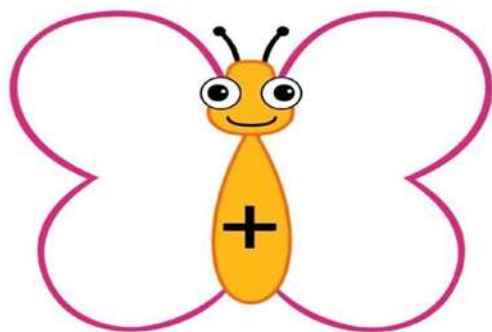
**Materiales:**

- ✓ Imágenes de las mariposas impresas y recortadas en forma de cuadrado (guiarse del ejemplo)
- ✓ tempera
- ✓ cotones
- ✓ ficha de refuerzo impresa
- ✓ lápices de colores

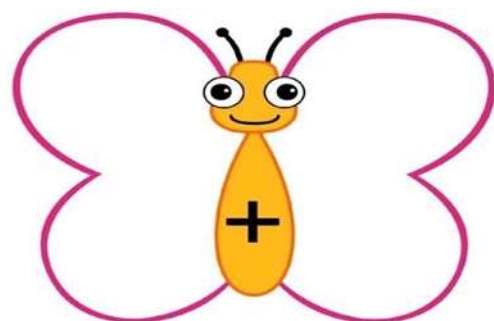




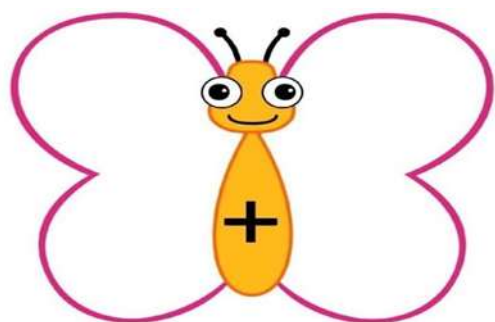
$4 + 3 = \square$



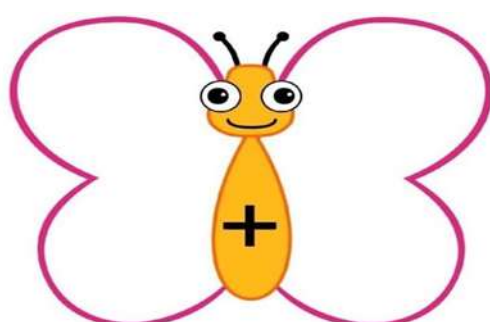
$2 + 3 = \square$



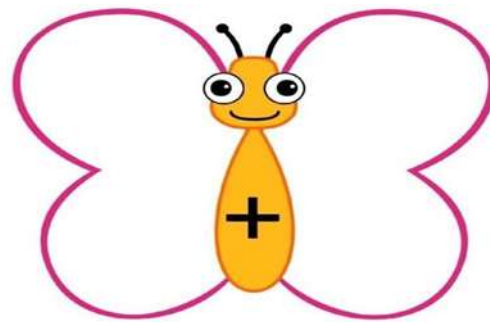
$3 + 3 = \square$



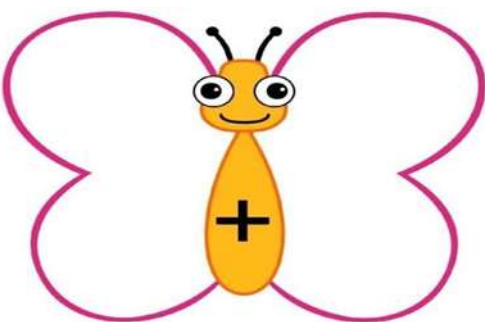
$4 + 4 = \square$



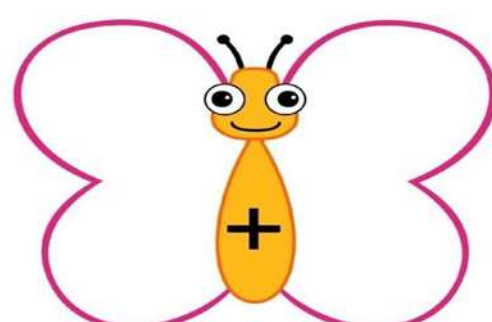
$5 + 6 = \square$



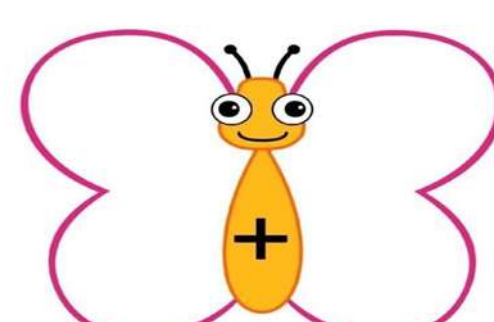
$7 + 7 = \square$



$5 + 5 = \square$




$3 + 8 = \square$



$\square + \square = \square$



# SUMAS



Realiza las siguientes sumas apoyándote con los círculos, guíate con el ejemplo.

$2+3=$	5
--------	---



$1+2=$	
--------	--



$4+5=$	
--------	--



$6+1=$	
--------	--



$4+2=$	
--------	--



$5+5=$	
--------	--



$3+5=$	
--------	--



$2+2=$	
--------	--



$2+0=$	
--------	--

