

“Mariposas matemáticas ”

Ámbito: Interacción y comprensión del entorno

Núcleo: Pensamiento lógico matemático

¿Qué haremos hoy?:

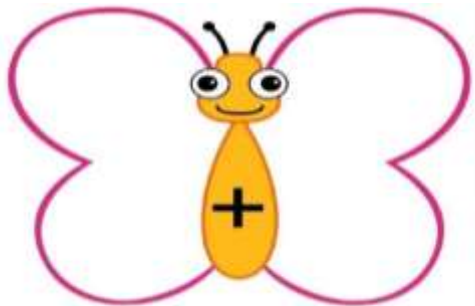
Seguimos practicando la operación matemática de la adición, esta vez serán unas amigas mariposas las cuales nos ayudaran a sumar y será a través del juego que los niños y niñas podrán resolver diversas operaciones matemáticas.

Además, le daremos pase al arte creando decoraciones para las alas de cada una de las mariposas.

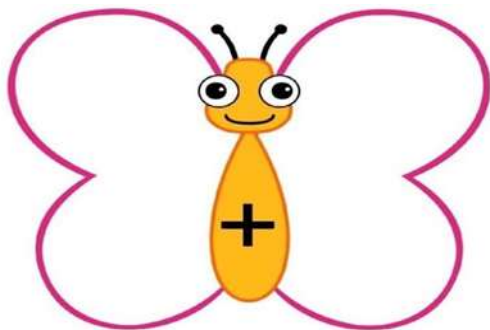
Materiales:

- ✓ Imágenes de las mariposas impresas y recortadas en forma de cuadrado (guiarse del ejemplo)
- ✓ tempera
- ✓ cotones
- ✓ ficha de refuerzo impresa
- ✓ lápices de colores

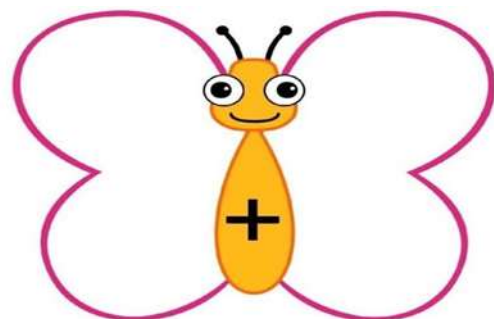




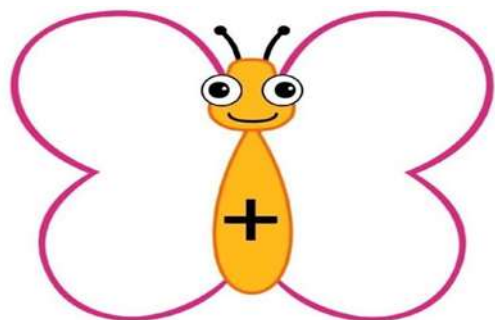
$$4 + 3 = \square$$



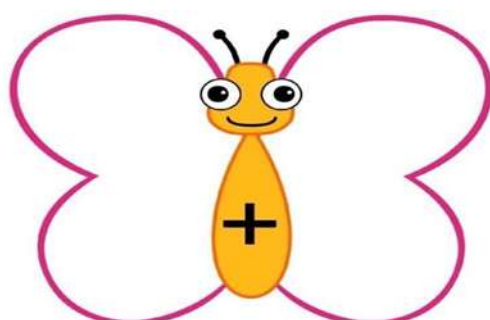
$$2 + 3 = \square$$



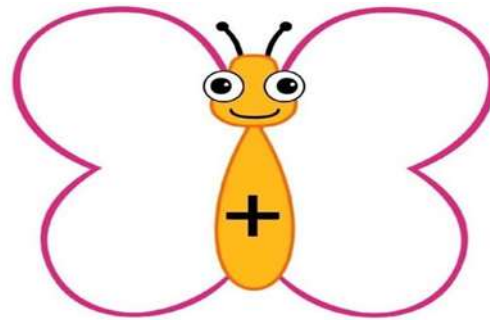
$$3 + 3 = \square$$



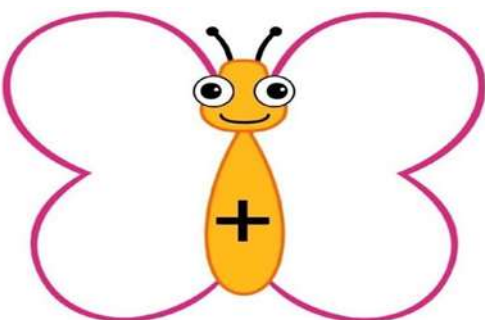
$$4 + 4 = \square$$



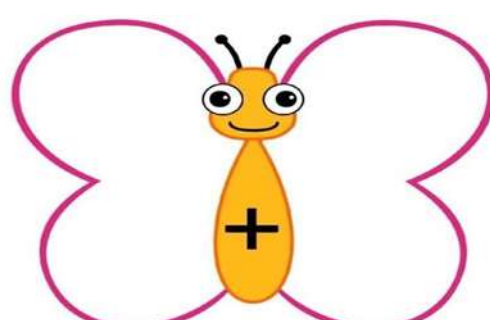
$$5 + 6 = \square$$



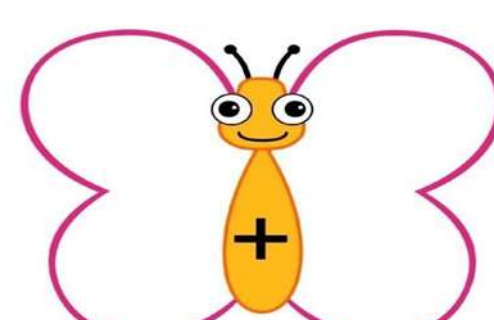
$$7 + 7 = \square$$



$$5 + 5 = \square$$




$$3 + 8 = \square$$



$$\square + \square = \square$$



SUMAS



Realiza las siguientes sumas apoyándote con los círculos, guíate con el ejemplo.

$2+3=$



$1+2=$



$4+5=$



$6+1=$



$4+2=$



$5+5=$



$3+5=$



$2+2=$



$2+0=$

